

Jméno: _____

1. Pokud je věta pravdivá, dejte písmeno za větou do kroužku. Písmena přepište postupně do rámečku. Slovo doplňte do věty.

1. Česká republika leží uprostřed Evropy. V
2. Naše vlast je přímořský stát. O
3. Mezi naší republikou a sousedními státy vede státní hranice. L
4. Na malém státním znaku je vyobrazena česká lvice. S
5. Píseň „Kde domov můj“ je naše státní hymna. A
6. V České republice žijí i příslušníci jiných národů. S
7. Přes řeku Vltavu vede v Praze Karlův most. T
8. Na Pražském hradě sídlí vláda ČR. R
9. Obce jsou malé vesnice. M



Máme rádi naši .


2. Zakroužkujte zeleně přírodniny, modře suroviny a červeně výrobky.



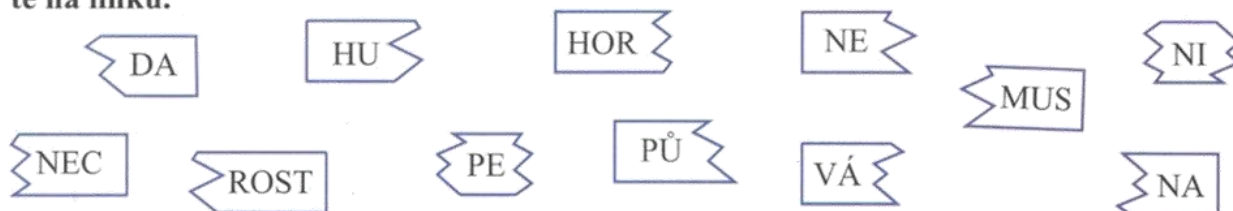
3. Vybarvte podle zadání.

● neživá příroda ● živá příroda

stříbro	pivoňka	skála
led	člověk	kapr obecný
lilek brambor	slunce	křemenáč březový
půda	ježek západní	vítr

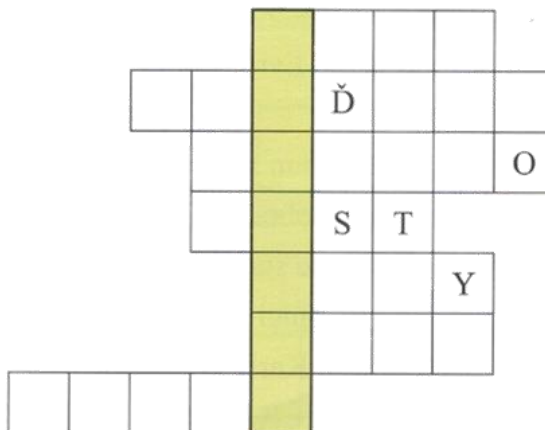


4. Roztržené části slov spojte dohromady tak, aby vznikly pojmy z neživé přírody. Pojmy napište na linku.



5. Doplnovačka. Tajenku doplňte do věty.

1. V obilném klase se nachází
2. Samice savců rodí živá
3. Rostliny potřebují k výživě sluneční
4. Součástí těla kvetoucích rostlin je
5. Rostliny si vytvářejí živiny
6. Většina hub roste v
7. Houby dělíme na jedovaté, nejedlé a



Tajenka: Živé organizmy jsou _____ na neživé přírodě.

6. Bludiště. Pomozte najít živočichům cestu k jejich potravě. Názvy živočichů napište na správné linky.



masožravci: _____

býložravci: _____

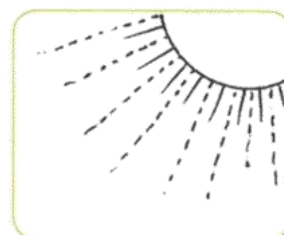
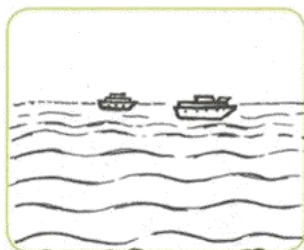
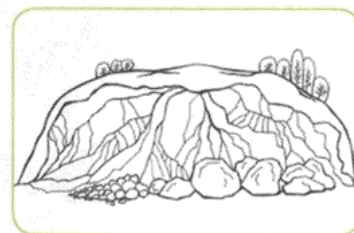
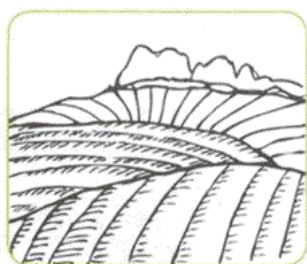
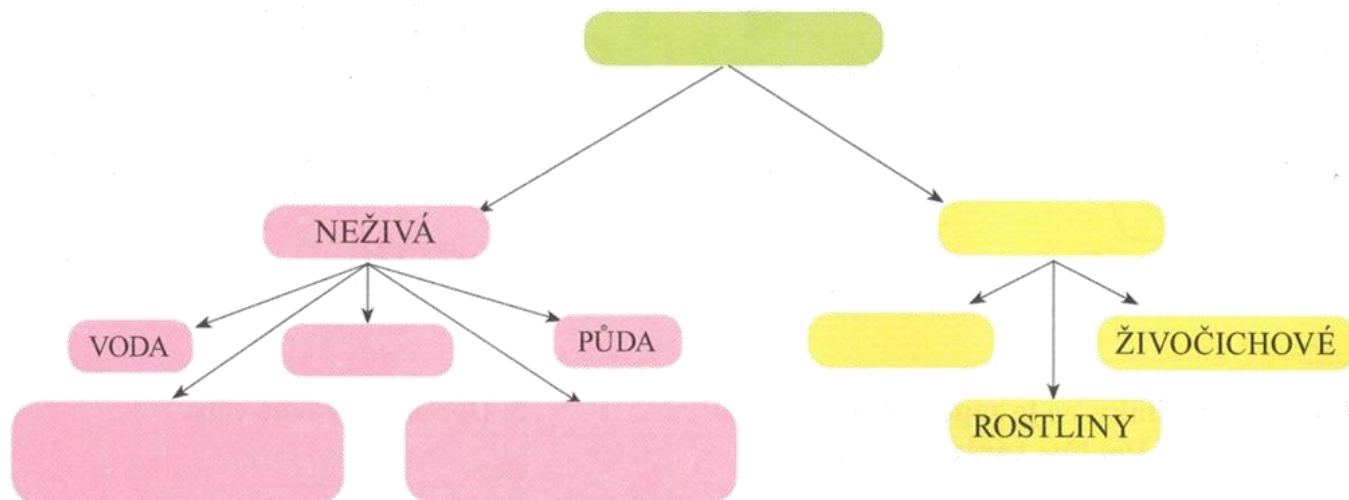
všežravci: _____

7. Doplňte věty. Přesmyčky vám napoví.

Základem kostry je _____ (TEŘPÁ). Skládá se z kostí zvaných _____ (RATLEOB). (KALEB) _____ chrání mozek. Pohyb nám umožňují kosterní _____ (LYSVA). Na dolní část páteře se napojuje _____ (NEVPÁ). Chod celého těla řídí _____ (ZEKMO). Dýchání zajišťují _____ (CEPLÍ). Oběh krve zajišťují _____ (CESRD) a _____ (VYCÉ).

II. ŽIVÁ A NEŽIVÁ PŘÍRODA

1. Dopište schéma složení přírody a spojte s obrázky. Obrázky si vybarvěte.



2. Přečtěte si věty. Vyberte odpověď ANO, nebo NE a písmeno ve správném sloupečku zakroužkujte. Svisle vznikne slovo, které doplňte do věty.

	ANO	NE
Živou přírodu tvoří živé a neživé organizmy.	B	Č
Houby se v průběhu života nemění.	A	L
Živé organizmy dělíme do tří základních skupin.	O	S
Všechny živé organizmy se v průběhu života rozmnožují.	V	N
Živé organizmy mají několik společných vlastností.	Ě	R
Rostliny potřebují ke svému životu pouze vodu.	Š	K

Mezi živočichy patří i _____.

